

Hong Kong Mathematics Olympiad (1992 – 93)
Heat Event (Individual)

除非特別聲明，答案須用數字表達，並化至最簡。

時限：40 分鐘

Unless otherwise stated, all answers should be expressed in numerals in their simplest form.

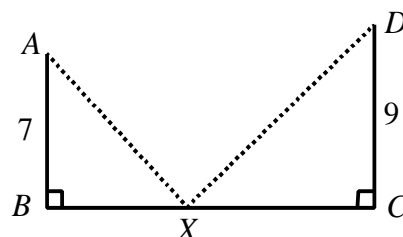
每題正確答案得一分。Each correct answer will be awarded 1 mark. Time allowed: 40 minutes

1. X is a point on the line segment BC as shown in figure 1.

If $AB = 7$, $CD = 9$ and $BC = 30$,

find the minimum value of $AX + XD$.

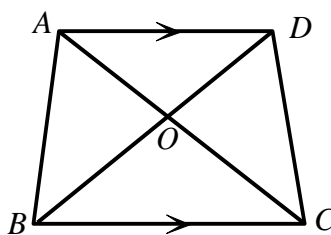
在圖一中， X 為 BC 上一點。已知 $AB = 7$ ， $CD = 9$ 及 $BC = 30$ ，求 $AX + XD$ 的最小值。



(Figure 1) (圖一)

2. 在圖二中， $ABCD$ 為一四邊形，其中 $AD \parallel BC$ ，而 AC 、 BD 交於 O 。已知 $\triangle BOC$ 的面積 = 36， $\triangle AOD$ 的面積 = 25，求四邊形 $ABCD$ 的面積。

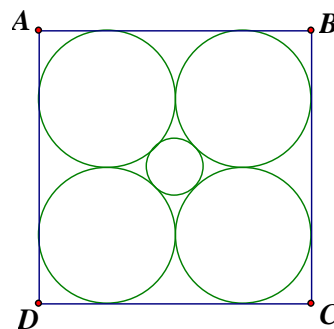
In quadrilateral $ABCD$, $AD \parallel BC$, and AC , BD intersect at O (as shown in figure 2). Given that area of $\triangle BOC = 36$, area of $\triangle AOD = 25$, determine the area of the quadrilateral $ABCD$.



(Figure 2) (圖二)

3. 在圖三中， $ABCD$ 是一邊長為 $8(\sqrt{2} + 1)$ 的正方形。求正方形中央小圓的半徑。

In figure 3, $ABCD$ is a square of side $8(\sqrt{2} + 1)$. Find the radius of the small circle at the centre of the square.



(Figure 3) (圖三)

4. 從分別寫上 1 到 30 的三十張紙牌中隨意抽取一張。求點數是 2 或 5 的倍數的概率。
Thirty cards are marked from 1 to 30 and one is drawn at random. Find the probability of getting a multiple of 2 or a multiple of 5.

5. 一長方形盒子的三塊不同面的面積分別為 120、72 和 60。求該盒子的體積。
The areas of three different faces of a rectangular box are 120, 72 and 60 respectively. Find its volume.

6. 已知對任何正整數 n ， $1^2 + 2^2 + \dots + n^2 = \frac{n(n+1)(2n+1)}{6}$ 。

求 $12^2 + 14^2 + 16^2 + \dots + 40^2$ 的值。

For any positive integer n , it is known that $1^2 + 2^2 + \dots + n^2 = \frac{n(n+1)(2n+1)}{6}$.

Find the value of $12^2 + 14^2 + 16^2 + \dots + 40^2$.

7. 若 x 和 y 為質數，且滿足 $x^2 - y^2 = 117$ ，求 x 的值。

If x and y are prime numbers such that $x^2 - y^2 = 117$, find the value of x .

8. 若 54000 的正因數有 m 個，求 m 的值。

If m is the total number of positive divisors of 54000, find the value of m .

9. 若 a 為一實數，且 $a^2 - a - 1 = 0$ ，求 $a^4 - 2a^3 + 3a^2 - 2a + 10$ 的值。

If a is a real number such that $a^2 - a - 1 = 0$, find the value of $a^4 - 2a^3 + 3a^2 - 2a + 10$.

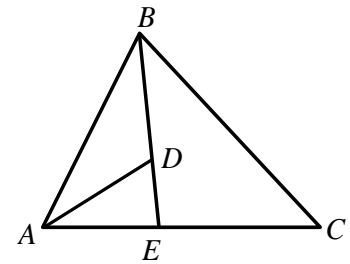
10. 在圖四中， BDE 及 AEC 為直線、 $AB = 2$ 、 $BC = 3$ 、

$\angle ABC = 60^\circ$ 、 $AE : EC = 1 : 2$ 。若 $BD : DE = 9 : 1$ 及

三角形 $\triangle DBA$ 的面積 $= \frac{a\sqrt{3}}{20}$ ，求 a 的值。

In figure 4, BDE and AEC are straight lines, $AB = 2$, $BC = 3$, $\angle ABC = 60^\circ$, $AE : EC = 1 : 2$. If $BD : DE = 9 : 1$ and

area of $\triangle DBA = \frac{a\sqrt{3}}{20}$, find the value of a .



(Figure 4) (圖四)

Hong Kong Mathematics Olympiad (1992 – 93)
Heat Event (Group)

除非特別聲明，答案須用數字表達，並化至最簡。

時限：20 分鐘

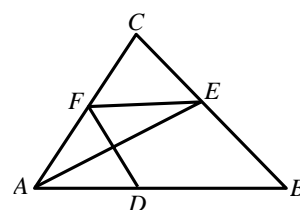
Unless otherwise stated, all answers should be expressed in numerals in their simplest form.

每題正確答案得一分。Each correct answer will be awarded 1 mark. Time allowed: 20 minutes

1. 一汽車 P 位於另一汽車 Q 以北 $10\sqrt{2}$ km。兩車同時起步，其中 P 以 4 km/h 速度向東南方走，而 Q 則以 3 km/h 速度向東北方走。求兩車最接近時的距離並以 km 表示。
A car P is $10\sqrt{2}$ km north of another car Q . The two cars start to move at the same time with P moving south-east at 4 km/h and Q moving north-east at 3 km/h. Find their smallest distance of separation in km.

2. 若 α 、 β 為方程 $x^2 - 3x - 3 = 0$ 的兩根，求 $\alpha^3 + 12\beta$ 的值。
If α, β are the roots of the equation $x^2 - 3x - 3 = 0$, find the value of $\alpha^3 + 12\beta$.

3. 在圖一中，三角形 ABC 的面積為 10。 D 、 E 及 F 分別為 AB 、 BC 及 CA 上的點且滿足 $AD : DB = 2 : 3$ ，
且 $\triangle ABE$ 的面積 = 四邊形 $BEFD$ 的面積。求 $\triangle ABE$ 的面積。
As shown in figure 1, the area of $\triangle ABC$ is 10. D, E, F are points on AB, BC and CA respectively such that $AD : DB = 2 : 3$, and area of $\triangle ABE =$ area of quadrilateral $BEFD$. Find the area of $\triangle ABE$.



(Figure 1) (圖一)

4. 在一平面上畫 20 條直線，最多可將平面分成幾個區域？
What is the maximum number of regions produced by drawing 20 straight lines on a plane?
5. 若四個連續正整數的乘積為 3024，求其中最大的一個。
The product of 4 consecutive positive integers is 3024. Find the largest integer among the four.
6. 求方程 $(x+2)(x+3)(x+4)(x+5) = 3$ 的實根的總和。
Find the sum of all real roots of the equation $(x+2)(x+3)(x+4)(x+5) = 3$.
7. 若 a 為一整數，且 $a^7 = 8031810176$ ，求 a 的值。
If a is an integer and $a^7 = 8031810176$, find the value of a .


8. 若 x 及 y 為實數，且 $\begin{cases} x^2 - xy + y^2 - 3x - 3y = 1 \\ xy = 1 \end{cases}$ 及 $x > y > 0$ ，求 x 的值。

If x and y are real numbers satisfying $\begin{cases} x^2 - xy + y^2 - 3x - 3y = 1 \\ xy = 1 \end{cases}$ and $x > y > 0$,

find the value of x .

9. 一正方形的每邊被均分為四份，且以直線連接如圖二。
求非正方形的長方形數目。

Each side of a square is divided into four equal parts and straight lines are joined as shown in figure 2. Find the number of rectangles which are not squares.



(Figure 2) (圖二)

10. 若 $0^\circ \leq \theta \leq 90^\circ$ ，且 $\cos \theta - \sin \theta = \frac{\sqrt{5}}{3}$ ，求 $\cos \theta + \sin \theta$ 的值。

If $0^\circ \leq \theta \leq 90^\circ$ and $\cos \theta - \sin \theta = \frac{\sqrt{5}}{3}$, find the value of $\cos \theta + \sin \theta$.

*** 試卷完 End of Paper ***